

## الكسور – الكسر كجزء من كمية

الاسم: \_\_\_\_\_ الصف: \_\_\_\_\_

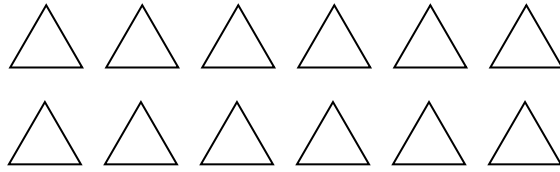
لوّن قسم من المجموعة حسب الكسر المُعطى واكتب الكمية الملائمة للكسر :

1. لوّن  $\frac{4}{6}$  النجوم



$\frac{4}{6}$  النجوم يساوي \_\_\_\_\_ نجوم

2. لوّن  $\frac{2}{3}$  المثلثات




$\frac{2}{3}$  المثلثات يساوي \_\_\_\_\_ مثلث

3. لوّن  $\frac{3}{4}$  القلوب




$\frac{3}{4}$  القلوب يساوي \_\_\_\_\_ قلبًا

4. لوّن  $\frac{2}{5}$  الدوائر



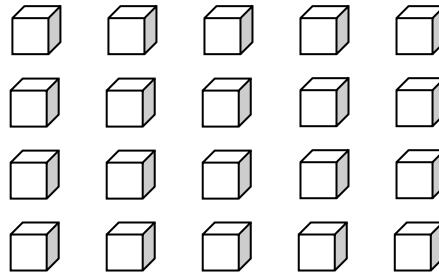
$\frac{2}{5}$  الدوائر يساوي \_\_\_\_\_ دوائر

5. لوّن  $\frac{7}{10}$  الهلالات



$\frac{7}{10}$  الهلالات يساوي \_\_\_\_\_ هلالا

6. لوّن  $\frac{3}{10}$  المُكعبات



$\frac{3}{10}$  المُكعبات يساوي \_\_\_\_\_ مُكعبًا